



ИГРИНЦЕВ

Задания для обучающихся. Время выполнения - 45 мин. 8/16

Максимальный балл - 100

Задание 1. Какое из данных исторических событий произошло позже других?

(За правильный ответ - 2 балла).

- А) первое упоминание о Москве
- Б) первый полет в космос Юрия Алексеевича Гагарина
- В) царствование Петра Первого
- Г) Великая Отечественная война

4

Задание 2. Определите принцип образования ряда:

Москва, Волгоград, Ленинград, Смоленск, Новороссийск - это:

(За правильный ответ - 2 балла).

- А) города - герои;
- Б) крупные промышленные города;
- В) города - столицы;
- Г) города, вошедшие в «Золотое кольцо России».

4

Задание 3. Русский купец, путешественник в Индию, написавший о своем путешествии книгу «Хождение за три моря»:

(За правильный ответ - 2 балла).

- А) Афанасий Никитин;
- Б) Иван Федоров;
- В) Иван Суевин;
- Г) Емельян Пугачев.

4

Задание 4. Какой космонавт совершил первый выход в открытый космос:

(За правильный ответ - 2 балла).

- А) Алексей Леонов;
- Б) Юрий Гагарин;
- В) Георгий Третько;
- Г) Валентина Терешкова.

4

8/6



Задание 5. Хронографией называют в Европе запись исторических событий. На Руси существовал подобный вид историче-

ских событий. Ответьте на предложенные вопросы.

(Максимальный балл за задание - 12).





Как записывались исторические события в Европе? Как записывались исторические события на Руси? Самая известная русская летопись?

Кто автор этой летописи?

Иб Хестор

4

Задание 6. Установите правильное соответствие объектов всемирного наследия ЮНЕСКО в России. Внесите свои ответы в таблицу. (Максимальный балл за задание - 16).



Ответ:





Объект	№ иллюстрации
Исторический центр Санкт-Петербурга	5
Архитектурный ансамбль Кижки	2
Московский Кремль и Красная площадь	2
Архитектурный ансамбль Троице-Сергиевой лавры	2

Задание 7. «Да» или «нет»? Если вы согласны с утверждением, напишите «Да», если не согласны — «Нет». Внесите свои ответы в таблицу.  
(Максимальный балл за задание — 16).

Утверждение	Да/нет
1. Тадж-Махал является символом Индии.	Да
2. Петр Первый — первый царь Московской Руси.	Нет
3. В Риме располагается государство-город Ватикан.	Нет
4. Впервые о Москве говорится в Ипатьевской летописи.	Нет
5. Финский Акрополь — главная достопримечательность Италии.	Нет
6. Статуя Свободы была создана во Франции.	Нет
7. Начало колллекции Оружейной палаты было положено императрицей Елизаветой.	Нет
8. Храмовая гора расположена в Греции.	Нет

Задание 8. Установите соответствие между фамилиями и деятельностью заменимых людей. Запишите в таблицу выбранные цифры под соответствующими буквами.  
(Максимальный балл за задание — 12).

Фамилия:	Направление деятельности:
А) И. Павлов;	1) полководец;
Б) Н. Римский-Корсаков;	2) композитор;
В) А. Суворов;	3) ученый - физиолог;
Г) М. Врубель.	4) мореплаватель;
	5) художник.

Задание 9. Прочитайте стихотворение В.Д. Берестова. Выполните задания.  
(Максимальный балл — 30).

А) Запишите, о возникновении, какого занятия древних людей идет речь  
Б) Укажите, когда это занятие возникло  
В) Укажите не менее двух других животных, которых приручили человек в числе первых.




Г) Подпишите на карте материк, который первобытные герои стихотворения могут назвать своей «родной».

Раз первобытные дети  
Пошли в первобытный лес.  
И первобытное солнце  
Глядело на них с небес.  
И встретили дети в чаще  
Неведомого зверька,  
Какого еще ни разу  
Не выдвигали пока.  
Сказал первобытный папа:  
«Ну, что ж, поиграйте с ним,  
Когда он будет побольше,  
Мы вместе его съедим».  
Ночь. Первобытные люди  
Спят первобытным сном,

А первобытные волки,  
Крадутся во мраке ночном.  
Беда первобытным людям  
Во сне беззащитным таким.  
Как часто звериное брюхо —  
Могилою делалось им.  
Но злых людей почуяв,  
Завыл отважный зверёк.  
И этим людей первобытных  
От гибели он уберёт.  
С палкой ходить на охоту  
Он начал, когда подрос.  
Так другом стал человеку  
Весёлый и верный пёс.

А) материк Африка  
Б) Африка  
В) Африка  
Г) Африка





**Задание 10. Как известно, в городе Омске было построено две крепости. Вторая Омская крепость имела 4 ворот.**

*(За каждый правильный ответ 1 балл. Максимальный балл за задание – 6 баллов).*

1. Перечислите ворота Второй Омской крепости.

Ответ

*Исетинские, Иркинские, Омские, Тобольские*

2. Какие ворота сохранились с XVIII века?

Ответ

3. Какие ворота были разрушены, а затем восстановлены?

Ответ