



*И.В. Смирнов*

1. Верны ли следующие утверждения («да» – «нет»)? Ответы внесите в таблицу.

(По 1 баллу за верное утверждение. Максимальный балл за задание – 10).

- 1.1. Новгород был присоединен к Москве при Иване III.
- 1.2. Князь Олег был сыном Рюрика.
- 1.3. Новгород был взят войском Батия в 1238 году.
- 1.4. Отцом хана Батия был Чингис-хан.
- 1.5. Среди восточнославянских племен, описанных в «Повести временных лет», были радимичи.
- 1.6. При Дмитрии Ивановиче (нам он известен как Дмитрий Донской) был построен белокаменный Кремль в Москве.
- 1.7. Битва на реке Воже состоялась после Куликовской битвы.
- 1.8. Храм Покрова на Нерли был построен, когда князем владимирским был Андрей Боголюбский.
- 1.9. Знаменитая икона «Троица» написана Феофаном Греком.
- 1.10. В битве на реке Шелонь новгородцы разбили московское войско.

Ответ:

1.1.	1.2.	1.3.	1.4.	1.5.	1.6.	1.7.	1.8.	1.9.	1.10.
✓	✗	✗	✗	✓	✓	✗	✓	✗	✗

2. Что с исторической точки зрения объединяет перечисленные в ряду элементы? Дайте максимально точный ответ.

(По 3 балла за каждый верный ответ. Максимальный балл за задание – 9).

- 2.1. Апсида, неф, закомара, купол.
- 2.2. 1463, 1478, 1485, 1510.
- 2.3. Финифть, зернь, чернь, скань.

Ответ:

2.1.

*Храм*

2.2.



2.3.

*Решено*

3. Расположите в хронологической последовательности. Ответы внесите в таблицу.

(По 3 балла за полностью верную последовательность, 5 баллов за последовательность с одной ошибкой (т. е. верная последовательность восстановивается путем перестановки любых двух символов), 0 баллов, если допущено более одной ошибки). Максимальный балл за задание – 10).

- А) битва на реке Калке;
- Б) создание «Повести временных лет»;
- В) крещение Руси;
- Г) раскол христианской церкви на римско-католическую и православную;
- Д) начало опричнины;
- Е) восстание древлян;
- Ж) окончание войны Алой и Белой розы;
- З) Верденский раздел империи Карла Великого;
- И) строительство собора святой Софии в Киеве;
- К) победа Хлодвига I в битве при Суассоне.

Ответ:

*КЗГЕВ ИГБ АТ ИД В*

4. В заданиях 4.1–4.3. выберите один верный ответ и внесите в таблицу.

(По 3 балла за верный ответ. Максимальный балл за задание – 9).

4.1. Как называется документ, отрывок из которого представлен ниже?

«Убьет муж мужа, то мстит брат за брата, или сын за отца, или сын брата или сын сестры; если не будет кто мстить, то 40 гривен за убитого. Если убитый – русин, или гридин, или купец, или ябедник, или мечник, или же изгой, или словенин, то 40 гривен уплатить за него...»

- 1) «Русская Правда»
- 2) «Домострой»
- 3) «Изборник» Святослава
- 4) Судебник 1497г.

4.2. Прочитайте отрывок из описания историком одного из городов Древней Руси и укажите данный город:



«Сей северорусский город имел развитую торговлю с Ганзой, в нём имелись специально построенные гостиницы дворян для немецких и скандинавских купцов... Не раз город подвергался угрозе захвата, однако, даже полчища Батыя не решились осадить его...»

- 1) Вятка
- 2) Торжок
- 3) Новгород
- 4) Ярославль

4.3. Прочитайте отрывок из работы современного историка. Укажите название документа, пропущенное в тексте.

«15 июня Иоанн приехал в стан баронов на берегу Темзы близ Виндзора и на Ронниמידском муту подписал договор, известный в дальнейшем как \_\_\_\_\_ . На несколько столетий этот документ стал основным прав английского народа и основным законом государственного устройства».

- 1) Хабеас корпус
- 2) Коллеж Юстиниана
- 3) Хартия вольностей
- 4) Салическая правда


Ответ:

4.1.	4.2.	4.3.
------	------	------

5. Рассмотрите схему, прочтите фрагмент труда историка Е.Ф. Шмурло, ответьте на вопросы и выполните задания.  
(По 2 балла за ответ на каждый вопрос. Максимальный балл за задание -12).

**Фрагмент из труда историка:**

«Шведы и немцы явились тогда врагами русской народности и русской веры. Таким образом, заслуга Александра в глазах его современников заключалась в том, что он: а) отстоял политическую независимость Русской земли – не допустил вторжения в нее иноземцев и б) отстоял чистоту русской веры – не допустил «латинскую» ересь, искажить истинное православие. И раньше духовная связь России с Западной Европой была слаба – теперь порывались последние нити».



5.1. О каком событии идет речь во фрагменте и на схеме? (2 балла)

Ответ:

*Нервове мостове*

5.2. Когда оно произошло? (Укажите точную дату) (2 балла, в случае указания только года – 1 балл)

Ответ:

5.3. Кто командовал русским войском? (2 балла)

Ответ:

*Невский*

5.4. Жители какого города составляли подавляющее большинство русских воинов? (2 балла)

Ответ:

5.5. Что такое «латинская ересь»? (2 балла)

Ответ:

5.6. Каково значение этого события? (2 балла)

Ответ:



6. Определите пропущенные в тексте названия, слова, имена, даты, обозначенные порядковыми номерами. При необходимости при порядковых номерах даются пояснения о характере требуемой вставки. Вставьте вместо пропусков буквы соответствующих слов (дат) из предложенного списка. **ОБРАТИТЕ ВНИМАНИЕ:** в списке слов есть и такие, которые в тексте встречаются не должны! Ответ внесите в таблицу. (По 2 балла за верный выбор. Максимальный балл за задание – 20).

А Балканы	Б Каролинги	В 732	Г Пиреней	Д Майордом
Е Римское	Ж Пуатье	З Восточную	И Меровинги	К Хлодвиг
Л Франкское	М Париж	Н Бенефиции	О Рим	П Король
Р Западную	С Суассон	Т Карл Великий	У Вотчина	Ф 843





«Свое историческое прозвище «Мартегг» Карл Пипин, из рода (1), получил после одержанной им победы над арабским войском. Мартегг – это молот, который беспощадно разит врага. К началу его фактического правления (2 – название) государство состояло из трёх давно обособившихся частей: Нейстрии, Австразии и Бургундии. Королевская власть была чисто номинальной. Этим не замедлили воспользоваться враги. В рейнские области вторглись саксы, в Баварию – авары, а через (3 – название горной системы) к реке Длауре двинулись завоеватели-арабы. Карл Мартегг прославился прежде всего победой над ними. Весной (4 – год) валли Абд ар-Рахман со значительным войском вторгся на территорию Галлии. Арабскому войску удалось разгромить Аквитанию, и герцог Аквитанский Эд Великий поспешил за помощью в (5 – город). Войска Карла Мартегга и Абд ар-Рахмана встретились при (6 – город). Победа в этом сражении остановила продвижение арабов в (7 – название направления) Европу. Однако (8 – название должности) Карл Мартегг известен не только своими битвами. Он покровительствовал распространению христианства среди племён язычников. Однако духовенство распространению не любило короля, так как для укрепления страны Карл в его государстве часть церковных земель и раздал их франкской знати в Мартегг конфисковал часть церковных земель и раздал их франкской знати в (9 – термин) – в пожизненное пользование на условиях обязательного несения королевской военной службы. Карл Мартегг значительно укрепил военную мощь королевства. Однако он стоял только на пороге подлинного исторического величия государства. Его внук (10 – имя) достиг наивысшего могущества, став императором.



Ответ:


(1)	(2)	(3)	(4)	(5)	(6)	(7)	(8)	(9)	(10)
Б	А	Г	В	Ж	И	З	Д	Е	К

7. Перед вами изображения знаменитых памятников архитектуры. Заполните таблицу: во вторую колонку таблицы запишите название изображённого архитектурного памятника, в третью колонку запишите название государства, на территории которого этот памятник сегодня располагается. (По 1 баллу за каждый верно указанный памятник и по 1 баллу за каждую верно указанную страну. Максимальный балл за задание – 10).





Д.




Ответ:

	Название памятника	Страна, в которой расположен
А		
Б		
В		
Г		
Д		



8. Решите кроссворд.

(По 1 баллу за верный ответ. Максимальный балл за задание – 12).



По горизонтали:

1. Вольные люди, работавшие по найму, лица, несшие службу в приграничных районах.
2. Тип парусного судна, распространённый в Европе (особенно в Португалии и Испании) во второй половине XV - начале XVI века.
4. Должностное лицо, которое великий князь ставил во главе уезда; ведал судом, взимал штрафы и судебные пошлины в пользу государства.
5. Органы центрального управления в России в XVI - начале XVIII века (Посольский, Поместный, Земский, Челобитный, Казенный и др.), имели преимущественно судебную функцию.



9. Монархическая форма правления в России, при которой государю принадлежало верховное право в принятии законов, управлении страной, руководстве армией и флота, определении содержания внутренней и внешней политики.

11. Низшая административно-территориальная единица в России.

*По ершикам:*

3. Общерусский свод законов, принятый в 1497 г.
6. Торг, рынок товаров, организованный в установленном месте на определенное время, куда съезжались крестьяне из ближайших и дальних деревень; устраивались обычно в городах, больших селах, слободах и приурочивались к праздникам.
7. Тверской купец, предпринявший беспримерный поход 1468-1474 гг., который описал в книге «Хождение за три моря».
8. Зерновые культуры, засеваемые осенью, под зиму.
9. Время сельскохозяйственных работ на Руси (от слова «страдать»).
10. Система содержания должностных лиц за счет местного населения, предоставлявшего им на время службы «корм» в денежном или натуральном виде.

9. В 2020 году россияне отметили 75 лет Победы в Великой Отечественной войне. Вспомните факты из истории Омского Прииртышья и ответьте на вопросы. Ответы внесите в таблицу. (По 2 балла за верный ответ. Максимальный балл за задание -8).

9.1.

Кто стал первым четырехкратным Героем Советского Союза? Его имя носит одна из улиц Омска, в центре города установлен памятник.

- 1) Дмитрий Михайлович Карбышев;
- 2) Георгий Константинович Жуков;
- 3) Константин Константинович Рокоссовский;
- 4) Родион Яковлевич Малиновский.

9.2.

В Омске на шестивин «Бесмертного полка» работники ПО «Нолёт» пронесли баннер с именами героев легендарного авиаполка «Нормандия-Неман». Что связывает наш сибирский город с французскими героями-авиаторами?

- 1) В Омске выпускались самолёты Як-9, на которых воевали лётчики из Франции;



- 2) В Омске было подписано советско-французское соглашение о формировании на нашей территории французской авиационной эскадрильи;
- 3) Боевые заслуги французских пилотов совместно с рабочими Омского завода;
- 4) Омичи жертвовали деньги на французский авиаполк средства.

9.3.

25 февраля 1943 года в газете «Омская правда» было опубликовано письмо шестилетней Ады Занегиной. Ада отдала деньги, собранные на куклу, на постройку танка и обратилась ко всем детям, чтобы они поступили также. Как называли танк, средства на который собрали маленькие жители Омской области?

- 1) «Малютка»;
- 2) «Малышка»;
- 3) «Юный олимп»;
- 4) «Привет из Сибири».

9.4.

С ноября 1941 года по август 1943-го на сцене омской драмы три раза в неделю шли спектакли омичей, четыре раза – спектакли эвакуированного театра из Москвы.

Какой из театров Москвы в годы войны играл на одной сцене с труппой Омского театра драмы?

- 1) МХАТ им. Горького;
- 2) «Современник»;
- 3) Большой театр;
- 4) Театр им. Е. Вахтангова.

Ответ:

9.1.	9.2.	9.3.	9.4.
------	------	------	------