

ВСЕРОССИЙСКАЯ ОЛИМПИАДА ШКОЛЬНИКОВ 2021/22 гг.  
ШКОЛЬНЫЙ ЭТАП  
ИСТОРИЯ КЛАСС

Шифр участника \_\_\_\_\_

Задания для обучающихся.  
Время выполнения - 45 мин.  
Максимальный балл - 100

14/10/81 8/10/10  
28  
13  
6/5

Задание 1. Верны ли следующие утверждения? («Да» - «Нет»).

Ответы внесите в таблицу. За каждый правильный ответ - 2 балла, максимальный балл за задание - 16.

1. Железо было первым металлом, из которого люди стали изготавливать орудия труда.
2. Австралопитек был обнаружен на территории Юго-Восточной Африки.
3. Изучением и восстановлением физического облика древних людей занимается антропология.
4. Первым одомашненным животным стала лошадь.
5. Первого человека учёные называют - «человек разумный».
6. Мамонты являются древними обитателями Сибири.
7. Первыми в истории человечества определили продолжительность года (365 суток) жители Древней Индии.
8. Люди перешли к производящему хозяйству в период неолита.

1	2	3	4	5	6	7	8
нет	да	да	нет	нет	да	нет	

1/5

Задание 2. Тестовые задания.

За каждый правильный ответ - 2 балла, максимальный балл за задание - 10.

2.1. Определите дату окончания истории Древнего мира и начала истории Средних веков:

- А) 410 г.
- Б) 395 г.
- В) 476 г.

2.2. Когда происходило Великое переселение народов?

- А) IV-VII в.в.
- Б) III-IV в.в.
- В) I-II в.в.

2.3. Назовите транспортное средство бога Амона в Египте:

- А) сани;
- Б) лодка;
- В) повозка.

2.4. В какой стране впервые начали чеканить золотую монету?

- А) Финикия;
- Б) Мидия;
- В) Лидия.

2.5. Какие звуки не передавались на письме египтянами?


- А) согласные;
- Б) гласные;
- В) нет правильного ответа

Задание 3. За каждый правильный ответ - 2 балла, максимальный балл за задание - 14.

На контурной карте Египта:

1. надпишите название реки, до которой доходили границы Египетского царства на севере в середине II тысячелетия до н.э.;
2. рядом с цифрами надпишите название стран или регионов, завоеванных фараонами за пределами Египта (Финикия, Нубия, Сирия, Палестина). Например: 2 - Синайский полуостров;
3. надпишите название морей, омывавших Египет.

ВСЕРОССИЙСКАЯ ОЛИМПИАДА ШКОЛЬНИКОВ 2021/22 гг.  
ШКОЛЬНЫЙ ЭТАП  
ИСТОРИЯ КЛАСС



**Задание 4.** За каждый правильный ответ – 2 балла, максимальный балл за задание – 8.  
Установи соответствие между понятиями и их определениями.

1.	миф	А	наука, изучающая вещественные памятники истории
2.	жрецы	Б	сказание о богах
3.	мотыга	В	служители бога
4.	археология	Г	палка с сучком для занятия земледелием

Соответствующие буквы ответов внеси в таблицу.

1	2	3	4
В	В	Г	А

80

**Задание 5.** В каждой строке выберите слово лишнее по смыслу, объясните почему. За каждый правильный ответ - 2 балла. Максимальный балл за задание – 6.

1.	Брахман	Шудры	Фараон	Неприкасаемые
2.	Нил	Тигр	Ганг	Вавилон
3.	Соломон	Шамаш	Анубис	Иштар

ВСЕРОССИЙСКАЯ ОЛИМПИАДА ШКОЛЬНИКОВ 2021/22 гг.  
ШКОЛЬНЫЙ ЭТАП  
ИСТОРИЯ 6 КЛАСС

1  
Тичу  
МК.

**Задание 6. Вставьте пропущенные слова.**

За каждый правильный ответ - 3 балла. Максимальный балл за задание - 21.

Археологам попался камень с надписью, часть которой была стерта. Прочитайте текст и впишите в таблицу недостающие слова

«Я - Синахериб, великий царь, могучий царь, царь 1) Ассирия царь всего света, премудрый, послушный великим 2) \_\_\_\_\_, любящий справедливость, творящий 3) \_\_\_\_\_, испепеляющий врагов. Я нанес поражение царю 4) \_\_\_\_\_. Посреди битвы покинул он свой лагерь, умчался один и спас свою 5) \_\_\_\_\_. В его дворец с ликованием я вошёл. Я отворил его сокровищницу. Золотую и Серебряную 6) \_\_\_\_\_, драгоценные камни, все, что там было, я забрал как добычу. 200 тыс. человек мужчин и женщин, коней, ослов и верблюдов, крупный и мелкий скот без числа я угнал в 7) \_\_\_\_\_. Не покорных я оружием побил, трупы их завесил на кольях, которые вокруг города велел поставить»

- |            |           |
|------------|-----------|
| А) красота | Ж) дочь   |
| Б) Египет  | З) боги   |
| В) Ассирия | И) фараон |
| Г) монета  | К) жизнь  |
| Д) Вавилон | Л) добро  |
| Д) зло     | М) утварь |

1	2	3	4	5	6	7
В	З	И	Д	К	М	ЛГ

**Задание 7. Поработайте с датой .**

За правильный ответ - 4 балла. Максимальный балл за задание - 4.

Используя ленту времени, ответьте на вопрос: Сколько лет прошло с момента захвата Вавилона персами до 2021 года? Ответ запишите цифрами

1482 1482

188

**Задание 8. Работа с иллюстрациями.**


За каждый правильный ответ - 3 балла. Максимальный балл за задание - 21.

8.1. Перед вами плакат времен Великой Отечественной войны.

Какие исторические деятели представлены на плакате?

Ответ: \_\_\_\_\_

ВСЕРОССИЙСКАЯ ОЛИМПИАДА ШКОЛЬНИКОВ 2021/22 гг.  
ШКОЛЬНЫЙ ЭТАП  
ИСТОРИЯ 6 КЛАСС



8.2. Перед вами памятники, объединенные единой тематикой. Укажите их название. Какой из памятников находится в Омске? Укажите цифру.




1.



2.

ВСЕРОССИЙСКАЯ ОЛИМПИАДА ШКОЛЬНИКОВ 2021/22 гг.  
ШКОЛЬНЫЙ ЭТАП  
ИСТОРИЯ КЛАСС



3.



4.

Ответ:

Статья <sup>4</sup> Трудового Кодекса  
РФ