

Шифр участника _____

Задания для обучающихся.
Время выполнения 90 минут.
Максимальный балл – 90.

70

1. Верны ли следующие утверждения («да» - «нет»)? Ответы внесите в таблицу.
(По 1 баллу за верное утверждение. Максимальный балл за задание -10)

- 1.1 Тверь была присоединена к Москве при Василии III.
- 1.2 Князь Святослав крестил Русь.
- 1.3 Ярослав Мудрый принял Судебник.
- 1.4 В Куликовской битве русские войска одержали победу над половцами.
- 1.5 Иван III успешно воевал с Мамаем.
- 1.6 Владимир Мономах был киевским князем.
- 1.7 Норманнская теория возникла в IX веке.
- 1.8 Полюдье – это размеры дани, определенные при княгине Ольге.
- 1.9 Киев находится на реке Волге.
- 1.10 Ильменские словене занимали территории вокруг Новгорода.

Ответ:

1.1	1.2	1.3	1.4	1.5	1.6	1.7	1.8	1.9	1.10
нет	да	да	нет	нет	да	нет	да	нет	да
+	-	+	+	+	+	+	-	+	+

2. Что с исторической точки зрения объединяет перечисленные в ряду элементы?
Дайте максимально точный ответ.

(По 3 балла за каждый верный ответ. Максимальный балл за задание - 9).

- 2.1 Ладога, Новгород, Смоленск, Киев.
- 2.2 Казанское ханство, Астраханское ханство, Крымское ханство, Сибирское ханство.
- 2.3 Поляне, древляне, дреговичи, радимичи.

Ответ:

- 2.1. Проходы торговых путей "из варяг в греки."
- 2.2. Имел одинаковые государева и законы независимости, заботу орд.
- 2.3. В повести "Временные ле" говорится то также "имел обычаи бичов своих кротких и тихих"; а древляне, дреговичи, радимичи "ими звериные обычаи".

ВСЕРОССИЙСКАЯ ОЛИМПИАДА ШКОЛЬНИКОВ 2021/22 гг.
ШКОЛЬНЫЙ ЭТАП
ИСТОРИЯ
7 КЛАСС

...положите в хронологической последовательности.

...баллов за полностью верную последовательность, 5 баллов за последовательность с одной ошибкой (т.е. верная последовательность восстанавливается путем перестановки любых двух символов), 0 баллов, если допущено более 1 ошибки). Максимальный балл за задание -10.

- А) Походы князя Олега на Царьград;
- Б) Установление княгиней Ольгой погостов и уроков;
- В) Войны Святослава с Византией;
- Г) Стояние на реке Угре;
- Д) Разгром печенегов Ярославом Мудрым;
- Е) Раздел православной и католической церкви;
- Ж) Судебник Ивана III;
- З) Начало крестовых походов;
- И) Феодалная война между потомками Дмитрия Донского;
- К) Захват Константинополя Османской империи.

Ответ:

1	2	3	4	5	6	7	8	9	10
а	б	в	г	е	з	и	к	л	ж

↓ ↓ ↓ ↓ ↓ ↓ ↓ ↓ ↓ ↓ ↓

В заданиях 4.1. - 4.3. выберите один верный ответ и внесите в таблицу.
(По 3 балла за верный ответ. Максимальный балл за задание - 9).

4.1. В каком веке произошли события, описываемые в документе.

В год 6473. Пошел Святослав на хазар. Услышав же, хазары вышли навстречу во главе со своим князем Каганом и сошлись биться, и в битве одолел Святослав хазар, и столицу их и Белую Вежу взял. И победил ясов и касогов.

В год 6474. Вятичей победил Святослав и дань на них возложил.

В год 6475. Пошел Святослав на Дунай на болгар. И бились обе стороны, и одолел Святослав болгар, и взял городов их 80 по Дунаю, и сел княжить там в Переяславце, беря дань с греков.»

- ① В IX веке;
- 2) В X веке;
- 3) В XII веке;
- 4) В XIII веке.

ВСЕРОССИЙСКАЯ ОЛИМПИАДА ШКОЛЬНИКОВ 2021/22 гг.
ШКОЛЬНЫЙ ЭТАП
ИСТОРИЯ
7 КЛАСС

каком событии идет речь в отрывке?

Своим попустительством за грехи наши ордынский князь <...> собрал силу великую, всю орду... и идет на Русскую землю; и были все люди страхом великим охвачены. Князь же великий, скипетр Русской земли державший, ...пришел к святому Сергию, потому что великую веру имел старца, и спросил его, прикажет ли святой ему против ордынцев выступить: ведь он знал, что Сергий — муж добродетельный и даром пророческим обладает. Святой же, когда услышал об этом от великого князя, благословил его, молитвой вооружил и сказал: «Следует тебе, господин, заботиться о порученном тебе Богом славном христианском стаде. Иди против [врагов], и, если Бог поможет тебе, ты победишь и невредимым в свое отечество вернешься».

- ① Куликовская битва;
- 2) Стояние на реке Угре;
- 3) Битва на реке Воже;
- 4) Битва на реке Сити.

4.3. О каком городе идет речь в отрывке?

«<...> — удивительно большой город; он расположен на большой равнине, болот окруженной большими лесами, и находится в низкой местности среди вод и. Посреди упомянутого города течет большая река по имени Волхов. Город обнесен плохими стенами, сделанными из плетня земли, тогда как башни каменные. Этот город независим и имеет общинное правление. Здесь есть епископ, который представляет как бы их начальника. И содержат они, равно как и все прочие русские в Руси, которая очень велика, христианскую религию по своему обряду, такому же, как и у греков. Они имеют замок, расположенный на берегу упомянутой реки, и в нем соборная церковь святой Софии, которую они почитают, и там живет их упомянутый епископ.

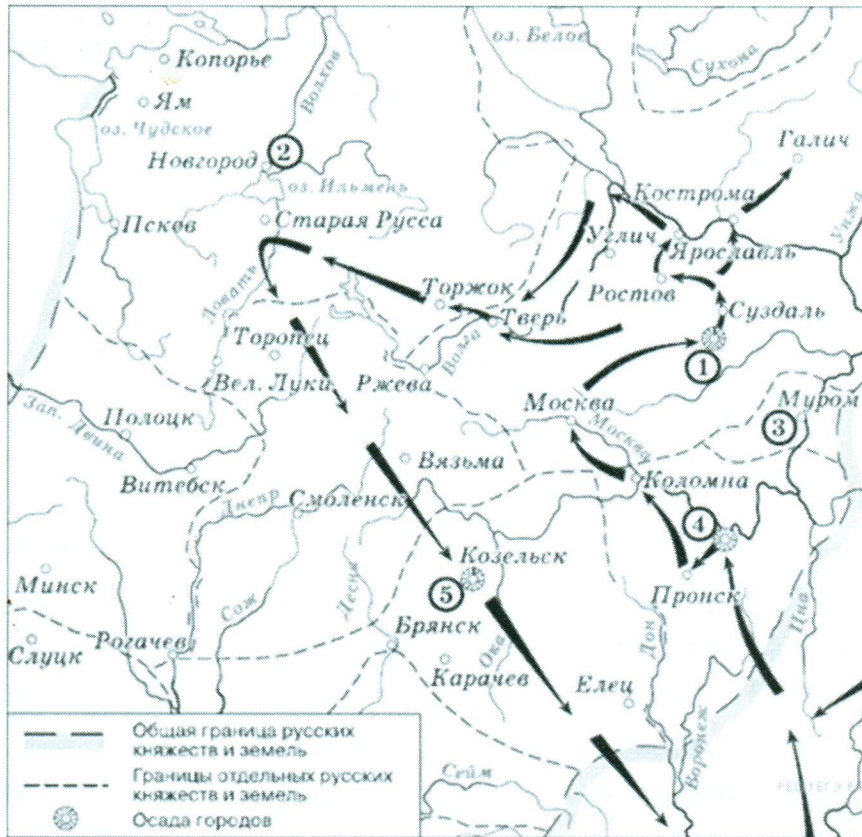
- 1) Киев;
- ② Новгород;
- 3) Смоленск;
- 4) Ярославль.

Ответ:

4.1	4.2	4.3
<u>IX в.</u>	Куликовская битва	Новгород

ВСЕРОССИЙСКАЯ ОЛИМПИАДА ШКОЛЬНИКОВ 2021/22 гг.
ШКОЛЬНЫЙ ЭТАП
ИСТОРИЯ
7 КЛАСС

Рассмотрите схему и ответьте на вопросы и выполните задания.
(По 2 балла за каждый вопрос. Максимальный балл за задание – 12).



5.1. О каком событии идет речь на схеме? (2 балла)

Ответ: поход князя Владимира на завоевание Северо-Восточной Руси.

5.2. Когда произошло событие, изображенное на схеме? (2 балла при правильном указании числа, месяца, года, 1 балл, если правильно указан год)

Ответ: 1237 - 1238 г.

5.3. Назовите военачальника, который руководил походом, который изображен на схеме? (2 балла)

Ответ: Владимир

5.4. Как был прозван город Козельск войском, походы которого изображены на схеме? (2 балла).

Ответ: Змий городок

5. От кого защищал Александр Невский северо-западную Русь, когда Северо-восточная Русь защищалась от войск полководца, чьи походы изображены на схеме?

(2 балла, если названы два и более противника Александра Невского, 1 балл, если правильно назван один из противников Александра Невского).

Ответ: с шведами 1

5.6. Какие последствия для русских земель имело событие, изображенное на схеме? (2 балла, если названы 2 и более последствия, 1 балл если названо одно последствие).

Ответ: взятие Рязани, поражение Воюдина 2 Владимиро-Суздальско князя.

6. Определите пропущенные в тексте названия, слова, имена, даты, обозначенные порядковыми номерами. При необходимости при порядковых номерах даются пояснения о характере требуемой вставки.

Вставьте вместо пропусков буквы соответствующих слов (дат) из предложенного списка. ОБРАТИТЕ ВНИМАНИЕ: в списке слов есть и такие, которые в тексте встречаться не должны! Ответ внесите в таблицу.

(По 4 балла за верный выбор. Максимальный балл за задание – 20).

«...Пришла весть к великому князю, что царь (1) идет в полном сборе, со своей ордой и царевичами, с уланами и князьями, да еще в соглашении с королем (2) — ибо король и направил его против великого князя, желая сокрушить христианство. Князь великий пошел на (3) и стал у (3), а сына своего великого князя Ивана поставил у Серпухова, а князя Андрея Васильевича Меньшого в Тарусе, а прочих князей и воевод в иных местах, а других — по берегу.

Царь (1), услышав, что князь великий стоит у (4) на берегу со всеми силами, пошел к Литовской земле, обходя реку (4) и ожидая на помощь себе короля или его силы, и опытные проводники вели его к реке (5) на броды. Князь же великий сына своего, и брата, и воевод послал на 5 со всеми силами, и, придя, они стали на (5) и заняли броды и перевозки. А сам князь великий поехал из Коломны на Москву к церквам Спаса и Пречистой Богородицы и к святым чудотворцам, прося помощи и защиты православному христианству, желая обсудить и обдумать это с отцом своим митрополитом Геронтием, и со своей матерью великой княгиней Марфой, и своим дядей Михаилом Андреевичем, и со своим духовным отцом архиепископом ростовским Вассианом, и со своими боярами — ибо все они тогда пребывали в осаде в Москве. И молили его великим молением, чтобы он крепко стоял за право-славное христианство против басурман».

ВСЕРОССИЙСКАЯ ОЛИМПИАДА ШКОЛЬНИКОВ 2021/22 гг.
 ШКОЛЬНЫЙ ЭТАП
 ИСТОРИЯ
 7 КЛАСС

А Казимир	В Мамай	Д Ока	Ж Угра	И Днепр
Б Коломна	Г Ахмат	Е Ольгерд	З Волга	К Москва

Ответ:

1	2	3	4	5
Ахмат, Ахмат	Казимиром	Д, Д	Ж, Ж	И, И

7. Перед вами изображения знаменитых памятников архитектуры. Заполните таблицу: во вторую колонку таблицы запишите название изображенного памятника, в третью запишите название государства, на территории которого этот памятник сегодня располагается. (По одному баллу за каждый верно указанный памятник и по одному баллу за каждую верно указанную страну. Максимальный балл за задание – 10).



Грановитская палата
 Пётр Великий
 Санкт-Петербург - Москва

А.



Афинский Акрополь - Греция


Б.



В.

Коллизеум - Рим

2



Г.

Большой сфинкс - на западном берегу Нила, в Египте

2



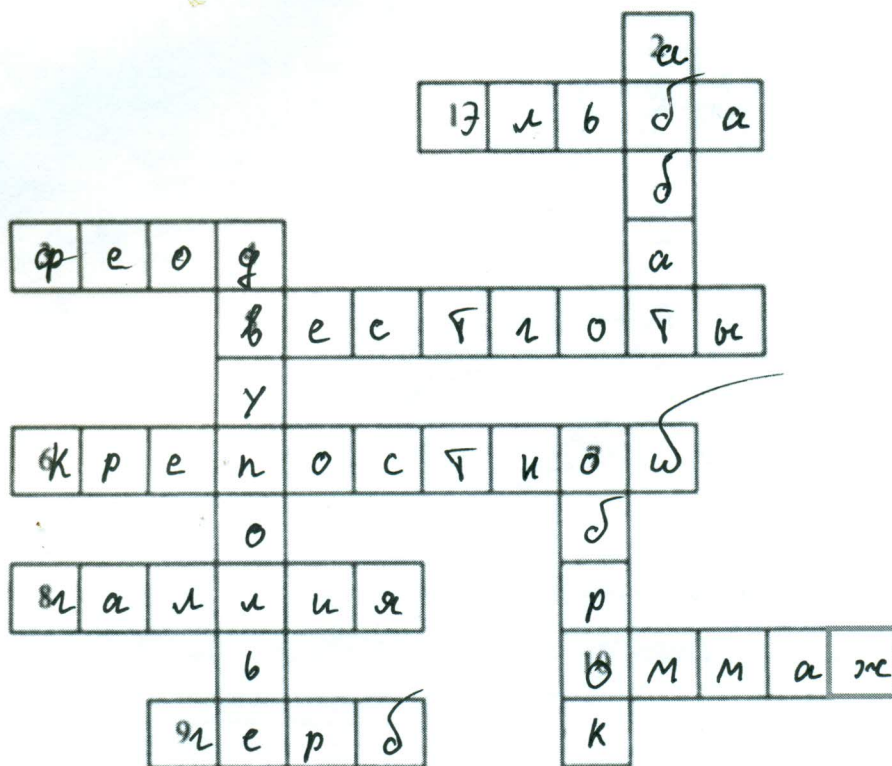
Д.

Успенский собор - Москва

2

8. Решите кроссворд.

(По 1 баллу за верный ответ. Максимальный балл за задание -10)



10

По горизонтали:

1. Река, в бассейне которой жили древние германцы.
3. Земельное владение, дававшееся за службу.
5. Германское племя, обосновавшееся в Испании в результате Великого переселения народов.
6. Крестьянин, попавший в поземельную и личную зависимость от феодала.
8. Римская провинция, завоеванная франками.
9. Отличительный знак рода феодала.
10. Обряд принесения вассальной присяги.

По вертикали:

2. Настоятель монастыря.
4. Система земледелия, позволявшая повысить урожай.
7. Платежи крестьян феодалу продуктами и изделиями своего хозяйства.