

Шифр участника _____

Задания для обучающихся.
Время выполнения - 45 мин.
Максимальный балл - 100

92

Задание 1. Максимальный балл за задание - 4.

Какая страна является родиной знаменитых пирамид?

- А) Китай;
- Б) Египет;
- В) Греция;
- Г) Италия.

45

Задание 2. Максимальный балл за задание - 15.

По какому принципу образованы ряды?

Амон Ра - Геб - Нут - БОГИ ВНЕШНЕГО ЕГИПТА

Хеопс - Тутанхамон - Эхнатон - ФАРАОНЫ

Рубило - плуг - топор - ИНСТРУМЕНТЫ

Собирательство - охота - рыболовство - ДЕЯТЕЛЬНОСТЬ ЧЕЛОВЕКА


Горшечники - ткачи - кожевники - РАМЕСЛЕННИКИ

155

Задание 3. Максимальный балл за задание - 6.

На контурной карте Египта:

- 1 надпишите название реки, до которой доходили границы Египетского царства на севере в середине II тысячелетия до н.э.;
- 2 рядом с цифрами надпишите название стран или регионов, завоеванных фараонами за пределами Египта (Финикия, Нубия, Сирия, Палестина), например, 2 - Синайский полуостров;



35

Задание 7. Максимальный балл за задание - 10.

Установите ложность или правильность данных утверждений.

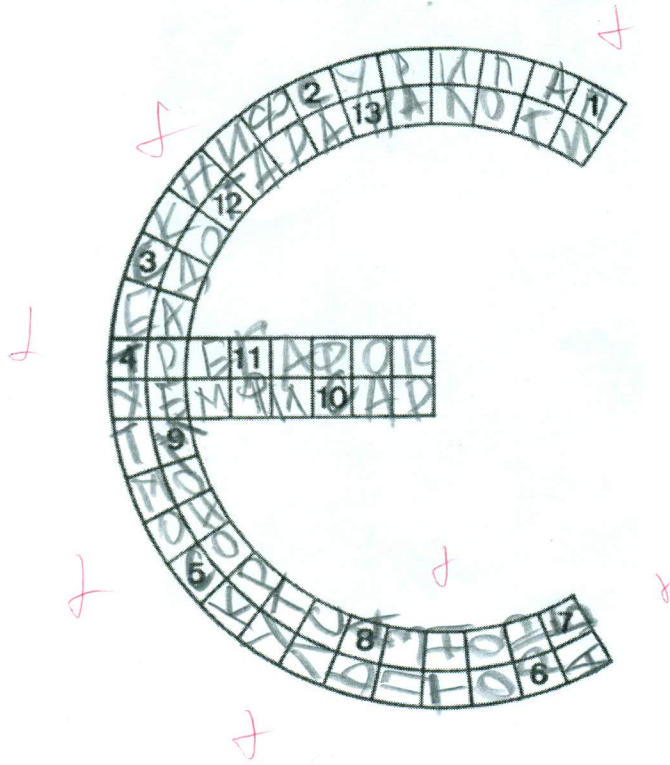
Утверждение	Да/нет
Марафонская битва произошла в 490 г до н.э.	Да
Главным городом Аттики были Афины	Да
Главным занятием жителей Спарты было земледелие	Нет
Для борьбы с персами был создан Афинский морской союз	Да
Во время Олимпийских игр запрещались войны между враждующими городами Греции	Да
Эллины – это все жители Египта	Нет
Женщины участвовали в Олимпийских играх	Нет
Афиняне крайне редко посещали Агору	Нет
Законы Солона заложили основы демократии	Да
Марафонский бег составляет 42 м 195 см	Да

Задание 8. Максимальный балл за задание – 13.

10

Разгадайте чайнворд:

1. Материал для письма.
2. Вырезанная из камня фигура льва с головой человека.
3. Злой бог сухостей.
4. Один из египетских фараонов.
5. Мастер, который вырезает из дерева, высекает из мрамора художественные изображения.
6. Подневольный человек.
7. Сплав меди и олова.
8. Ученый, который изучает звездное небо.
9. Столица Египта.
10. Египетская гробница.
11. Греческий историк, который описал историю Египта.
12. Стенбитый снаряд.
13. Сборы в пользу государства.



13



ВСЕРОССИЙСКАЯ ОЛИМПИАДА ШКОЛЬНИКОВ 2021/22 гг.
ШКОЛЬНЫЙ ЭТАП
ИСТОРИЯ
5 КЛАСС

Задание 9. Максимальный балл за задание - 12.

Прочитайте стихотворение И.А.Бунина и ответьте на вопросы к тексту.

Луна и Или. По берегу к пещерам
Идёт народ, краснеют фонари.
На берегу, в песке сухом и сером
Ряды гробниц – и всё цари, цари.
Иной как был – под крышкой золочёной,
Иной открыт – в тугую пелену,
В пахучий кокон тесно заключённый,
Пять тысяч лет не видевший луну.

12

1. Название какой реки надо поместить в первую строку?

Или

2. Как называется место, описанное в стихотворении?

Душка куралыц

Задание 10. Максимальный балл за задание- 12.

На фотографиях изображены памятники архитектуры города Омска.
Определите их название. Напишите год возведения каждого памятка.

А)



Старые ворота
были построены в
1792 году

3

Б)



Старая каламта
была построена
в августе 1915 года

1

В)



Святой тринитский


собор

Был построен в

1898 г.

2

Г)



Тихоновские ворота

1771 - 1773 гг.

3