

ШИФР УЧАСТНИКА
8-15-2

Задания для обучающихся
Время выполнения заданий - 135 минут
Максимальное количество баллов – 123

Задание 1. (22 балла)

Даны иллюстрации к мультипликационным фильмам. Укажи названия мультфильмов. Назови главных героев этих мультфильмов. Назови песни, звучащие в этих мультфильмах, композитора. Ответ запиши в таблицу. Сформулируй две главные идеи мультфильмов: чему они учат зрителей. Сделай вывод, что объединяет эти мультфильмы.




Таблица для ответа

	1	2	3	4
Название	"Мамы для мамонтенка" 1	"Антошка" 1	"Попи! Здравствуйте!" 1	"Первая скрипка"
Название песни, звучащей в мультфильме	лесенка мамонтенка 1	"Антошка" 1	"Облака-белокрошоты-помадки" 1	комбинированная кудряшки
Композитор	Владимир Шаинский 1	Владимир Шаинский	Владимир Шаинский	муз Александр Варламов
Имена главных героев	мамонтенка 1	Антошка 1	Емек, Медвежонок, зайцы 3	кудряшки
Идеи мультфильмов	нужно помогать др. животным и др. 1	дружить и др. 1	дружить и др. 1	без ушей и др. 1

Задачи 2

1) Первый полет человека в космос, Генри Кошонавтики 1

2) Искусственный 1

3) Композиция открытая, фронтальная 1

На переднем плане изображен Юрий Гагарин - 1
первый человек, полетевший в космос; ниже позади
него расположена ракета 3

4) Воинственный, величавый, торжественный 3

6) "Зорж и тайное Веленной" - Мом Хокисе 4
"Космос", "Глубокое летношко" - Карл Салам

7) "Перелет Сидри Ерманом Тимофеевичем", 1
"Князь Ольга везет тело князя Игоря", 1
"Царевна Ксения Годунова у портрета умершего
жениха-королевича". 1

158

	<i>добиться успеха в какой-либо области</i>
Вывод	<i>интерактивный обмен идеями задумка это нужно помогать другим 1</i>

Задание 2. (23 балла)

Рассмотри живописное произведение.

1. С каким событием оно связано?
2. Определи жанр.
3. Опиши общую композицию работы.
4. Напиши 5 слов или словосочетаний, передающих настроение работы.
5. Если знаешь, напиши автора картины и ее название.
6. Назови три произведения искусства (живопись, скульптура, литература, музыка, кино) и их авторов о космосе.
7. Укажи три картины художника В. И. Сурикова, написанных в этом жанре.



Задание 3. (12 баллов)

1. Переставь буквы так, чтобы получились фамилии композиторов
1) аБх 2) айГлкн 3) йваЧкойски
2. Подпиши полученные фамилии рядом с именем композитора в таблице
3. Соотнеси № портрета с фамилией композитора и укажи его в таблице



1.



2.



3.

4. Прочитай фрагменты биографии композиторов. Определи о ком эти высказывания. В таблице напротив фамилии композитора укажи букву биографии.
А) «Композитор, всю жизнь служил церковным органистом. Большая часть музыкальных произведений написана им для органа. Он часто конфликтовал с церковным начальством, которое считало его музыку слишком эмоциональной, человеческой, в то время как в храме музыка должна была звучать сдержанно и степенно».
- Б) «Подобно тому, как Пушкин открыл своим творчеством классическую эпоху русской литературы, этот композитор стал основоположником русской классической музыки. Главным действующим лицом опер «Иван Сусанин», «Руслан и Людмила», становится народ, а народная песня – основой музыки композитора»
- В) «Композитор выступил в области балетной музыки как реформатор, превратив ее из подчиненного, вспомогательного элемента, служащего только сопровождением

танца, в начало, одухотворяющее танец. Визитной карточкой Большого театра становится балет «Лебединое озеро», а музыкальным символом Рождества и Нового года балет «Щелкунчик»

Таблица для ответа

Имя	Фамилия	№ портрета	Буква биографии
Михаил Иванович	Тшанка	3	Б
Иоганн Себастьян	Бах	2	А
Пётр Ильич	Чайковский	1	В

Задание 4. (15 баллов)

Даны 12 терминов, связанных с искусством

- Объедините термины в группы.
- Дайте определение (название) каждой группе.

Импрессионизм, литография, увертюра, монотипия, ксилография, кубизм, сюита, прелюдия, супрематизм, симфония, примитивизм, эстамп.

№	Ряд (слова)	Определение (название)
1	импрессионизм, кубизм, супрематизм, примитивизм	Течения в искусстве
2	литография, монотипия, ксилография, эстамп	произведения в сфере графики
3	увертюра, сюита, прелюдия, симфония	произведения в музыкальном жанре

Задание 5. (16 баллов)

В 2021 году культурное сообщество России отмечает 200-летний юбилей Ф. М. Достоевского. Перед тобой два памятника Ф.М. Достоевскому и один архитектурный объект.

Распредели тексты (буквы), связанные с личностью писателя, названиями, авторами, материалами, в соответствии с этими памятниками (цифры)



1. Памятник Ф.М. Достоевскому



2. Памятник Ф.М. Достоевскому «Крест несущий»



3. Омский государственный литературный музей имени Ф. М. Достоевского



А	Каторжный» период жизни писателя представлен в отдельном зале. Руками умелых художников здесь воссоздана мрачная атмосфера тюремной казармы: ножные кандалы, нары, «острожные» предметы.	
Б	Первый памятник Ф. М. Достоевскому в Омске был установлен возле Драматического театра	
В	Скульптор - Александр Капралов и архитектор Ю.А. Захаров	
Г	Создателями монумента выступают – архитектор Альберт Каримов и скульптор Сергей Голованцев	
Д	Именно в этом здании в атмосфере Достоевский вынашивал план «Записок из Мертвого дома».	
Е	Установлен в центральной части Омска 12 ноября 2001 года ко дню 180-летия рождения писателя	
Ж	Рядом одна из старейших каменных построек Омска – Здание гауптвахты – находится на территории бывшей Омской крепости.	
З	Памятник установлен в августе 2000 года	
И	Он располагается в историческом здании — доме комендантов Омской крепости (1799 года постройки). В этом доме жил Алексей Федорович де Граве, последний комендант крепости, оказывавший каторжнику Достоевскому особое покровительство.	
К	Экспозиция – это рассказ о Достоевском, который кратко охватывает всю биографию писателя, более подробно представлен материал о годах, проведенных в Сибири. Отдельный зал посвящен каторжному периоду в жизни Федора Михайловича. Здесь воссоздана атмосфера арестантской казармы.	
Л	В своей руке он держит Евангелие, ведь только эту книгу разрешалось читать в остроге	
М	Это единственная скульптура Ф.М. Достоевского, созданная методом сварки	

Таблица для ответа

Номер иллюстрации	Буква
1	Г, Е, Ж
2	Б, В, З, А, М
3	А, Д, К

108

Задание 6. (25 баллов)

Перед тобой архитектурные сооружения мира, напиши:

1. название архитектурных объектов;
2. функции;
3. место положения (страна, город)
4. принадлежность к конфессиональной культуре.




Таблица для ответа

№	Название	Функции	Место положения (страна, город)	Принадлежность к конфессии
1	Кремль	официально-политический и исполнительно-художественный комплекс города	Россия, Москва	православие
2	Солдербриджский собор	церковь Солдербриджского епископства	Великобритания, Солдербрич	англиканство
3	Дворец Тадж-Махал	мавзольей-мечеть	Индия, Агра	ислам
4	Храм Киото	святилище, место поклонения иногда тайно императорского дворца в Киото	Япония, Киото	
5	Кремль-Шариф	соборная мечеть	Россия, Казань	ислам
6	Храм Христа Спасителя	кафедральный собор Русской церкви	Россия, Москва	православие

