

Задания для обучающихся.

Время выполнения - 60 мин.

Максимальный балл - 100

Код

--

Общее количество баллов

1	2	3	4	5	6	7	8	9	Всего баллов

Задание 1. Определите правильность или ошибочность суждений (да, нет).Ответы внесите таблицу. **Максимальное количество 12 баллов.**

1. Поведение, соответствующее правилам, общество признаёт правомерным и считает нормой.
2. Адвокаты удостоверяют завещания и сделки с недвижимостью, свидетельствуют верность подписей и копий документов, выписок из них.
3. В процессе производства создаются экономические блага, необходимые для удовлетворения потребностей людей.
4. Существует рыночная экономическая система, главный принцип которой – сделка должна быть выгодна продавцу.
5. Воздействие человека на биосферу Земли не искажает свойства и природный состав планеты.
6. Смог, образующийся в воздухе крупных промышленных городов, может быть причиной ухудшения здоровья горожан.
7. В процессе деятельности люди не только удовлетворяют потребности, но и социализируются в обществе.
8. Познание самого себя предполагает исследование человеком своих способностей и возможностей, поиск того вида деятельности, который в наибольшей степени будет им соответствовать.
9. К биологическим потребностям человека учёные относят потребность в общении с другими людьми, признании человека.
10. Большинству людей, нашедших своё профессиональное призвание, удовлетворение приносит, только материальное вознаграждение.
11. Главным средством общения между людьми являются мимика и жестикация, которые ярко отражают эмоциональное состояние человека.
12. В процессе взаимодействия людей между собой возникают межличностные конфликты, которые всегда негативно влияют на развитие взаимоотношений между людьми.

ВСЕРОССИЙСКАЯ ОЛИМПИАДА ШКОЛЬНИКОВ 2021/22 гг.
ШКОЛЬНЫЙ ЭТАП
ОБЩЕСТВОЗНАНИЕ
8 КЛАСС

	2	3	4	5	6	7	8	9	10	11	12
	нет	да	нет	нет	да	да	да	да	нет	нет	нет
	+	+	+	+	+	+	+	-	+	+	+

Задание 2. Перед Вами ряды понятий. Выявите лишнее понятие в ряду. Объясните свой выбор. Максимальное количество 15 баллов.

1. Производство, распределение, деньги, обмен

Лишнее понятие деньги

Объяснение деньги способ обмена, а остальные слова относятся к хозяйственному циклу

2. Рост, сила, целеустремлённость, выносливость

Лишнее понятие целеустремлённость

Объяснение Рост, сила и выносливость это физические показатели, а целеустремлённость это внутреннее качество человека

3. Загрязнение мирового океана, браконьерство, увеличение озоновых дыр, перенаселение планеты

Лишнее понятие браконьерство

Объяснение браконьерство это преступление, а остальные это природные катастрофы.

4. Кража, мелкое хулиганство, грабёж, вымогательство

Лишнее понятие мелкое хулиганство

Объяснение мелкое хулиганство не преследется уголовной ответственностью в отличие от других

5. Расходы на питание, одежду, коммунальные услуги, путешествия.

Лишнее понятие путешествие

Объяснение это не является человеческой потребностью.

Задание 3. Прочитайте текст. Заполните пропуски в тексте, выбирая из предложенного списка необходимые слова и словосочетания. Слова и словосочетания в списке даны в именительном падеже и единственном числе. Номера выбранных слов и словосочетаний запишите в таблицу. Максимальное количество 8 баллов.

ВСЕРОССИЙСКАЯ ОЛИМПИАДА ШКОЛЬНИКОВ 2021/22 гг.
ШКОЛЬНЫЙ ЭТАП
ОБЩЕСТВОЗНАНИЕ
8 КЛАСС

Основным (А) _____ политических отношений является (Б) _____. Оно существует в различных формах: правление, государственное устройство и политический (В) _____.



Другим политическим субъектом являются политические институты. Именно они определяют (Г) _____ систему общества. Сюда включаются политические организации, политические (Д) _____, общественно-политические организации и движения. Взаимодействуя между собой, политические (Е) _____ создают политические отношения, формируют политические ценности и политические нормы, а также политический процесс.


Список слов и словосочетаний. Обратите внимание, что список содержит лишние элементы.

- | | |
|----------------|-----------------|
| 1) режим | 5) партия |
| 2) институт | 6) политическая |
| 3) государство | 7) субъект |
| 4) лидер | 8) элита |


А	Б	В	Г	Д	Е
7	1	3	6	4	8

Задание 4. Вам представлены изображения, характеризующие различные сферы жизни общества. Приведите в соответствие изображений сферам жизни общества. Результаты запишите в таблицу. Максимальное количество 10 баллов.


<p>А) </p>	<p>Б) </p>
---	--



В)




Г)




Д)



Е)



Ж)



З)

Политическая сфера	Экономическая сфера	Социальная сфера	Духовная сфера
Ж 2	Д 2	Д Е	З В

Задание 5. Прочитайте притчу и ответьте на вопросы к ней.

Максимальное количество 19 баллов

Собрались у колодца три женщины. Две из них стали наперебой хвалить своих сыновей. Одна говорит, что её сын красивее всех, сильнее всех и умнее всех. Другая — про своего то же самое. А третья стоит рядом и помалкивает. Две первые её спрашивают, почему она молчит. А она говорит, что он у неё обычный, ничего особенного. Пошли женщины с тяжелыми ведрами домой. А навстречу им сыновья идут. Сын первой прыгает через голову, ходит на руках, бросает тяжелые камни. А мать радуется, смотрите, мол, какой он у меня

10

...ий. Сын второй стал посреди дороги и поёт, как соловей, и пляшет. А мать
...ольна.... А сын третьей подбежал к матери, взял ведро и понёс домой.
...роходил мимо старик. Две женщины подбежали к нему и просят его
...рассудить, чей же сын лучше. А старик отвечает....

1. Как Вы думаете, что ответил старик женщинам?

Ответ Все сыновья равны и лучше в чём-то лучше

2. Какой вид социальных норм иллюстрирует эта притча?

Ответ _____

3. Кто устанавливает и контролирует эти нормы? От чего зависит выполнение этих норм? Укажите не менее двух критериев.

Ответ _____

4. Какое значение в нашей жизни имеют эти нормы?

Ответ _____

5. Стоит ли соблюдать данные нормы?

Ответ _____

6. Смоделируйте ситуацию или приведите пример из Вашего личного социального опыта, иллюстрирующие действие санкции за нарушение данного вида социальных норм.

Пример Я не так хорошо посуду и мама наводит санкции в виде запрета пользоваться компьютером, так как по договору я должен был посуду.

Задание 6. Проанализируйте следующую ситуацию с точки зрения действующего законодательства. Максимально 8 баллов

Два 14-летних друга, граждане Н. и М., решили во время летних каникул заработать денег на приобретение надёжной дорогой туристической палатки. Они быстро нашли работу. Частный предприниматель, посмотрев паспорта

данина Н. и М., заключил с ними трудовой договор и предоставил рабоче
то в ближайшем торговом киоске, в котором продавали различные товары
продукты питания, сигареты, бытовую химию). Чтобы получить надбавки к
зарплате, молодые люди согласились иногда работать в ночное время.

**Прав ли работодатель, предоставивший работу гражданам Н. и М.? Какой
нормативно-правовой акт регулирует данный вид отношений? Приведите
не менее двух обоснований своего ответа.** 2 ответа

Нет правды как трудовая сделка - договорились
иногда работать при условии своего
удовольствия или нежелания. Работать
необходимо не только в целях
предоставления услуг. И предоставлять
услуги можно и в выходные дни
удовольствия.

**Задание 7. Пронализируйте данные задачи и ответьте на вопрос.
Максимально 2 балла**

Фирма «Рога и Копыта» производит два вида продукции – лассо и хомуты. Для
производства и лассо, и хомутов требуется определённое количество труда,
запас которого у фирмы ограничен и составляет 4000 часов в месяц. Это
ограничение можно выразить в виде следующей зависимости:

$$10x + 12y = 4000,$$

где x – количество произведённых лассо, а y – количество произведённых
хомутов.

Какое из нижеперечисленных выражений является неверным?

- 1) Если фирма хочет произвести 40 лассо, то максимальное количество хомутов
при этом составит 300.
- 2) Для того чтобы произвести 12 лассо, фирма откажется от производства 10
хомутов.
- 3) На одно лассо фирма тратит 10 часов труда, а на один хомут – 12 часов
труда.
- 4) Фирма не может произвести более 360 единиц продукции.

**Задание 8. Перед Вами «облако слов», в котором перемешались слова
понятия и его определения. Найдите понятие и составьте из этих слов его
определение. Можно добавлять необходимые предлоги и соединительные
союзы. Максимально 12 баллов.**

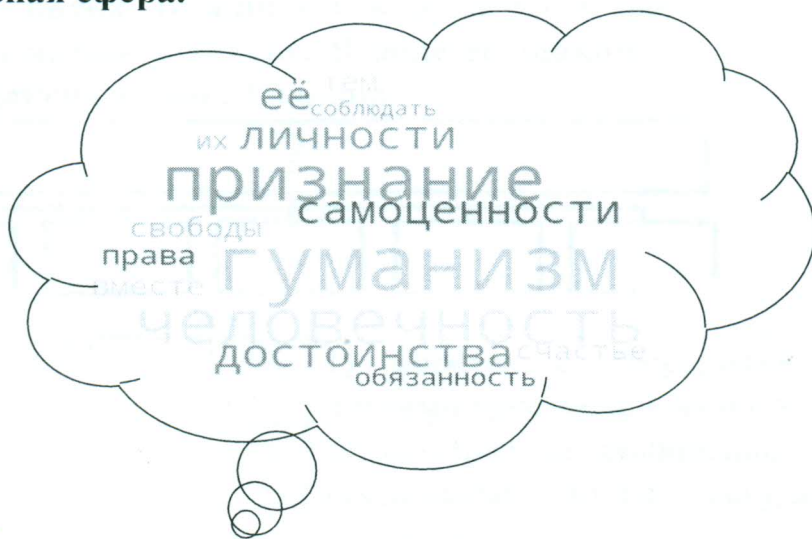


Экономическая сфера.



Ответ: Кредит

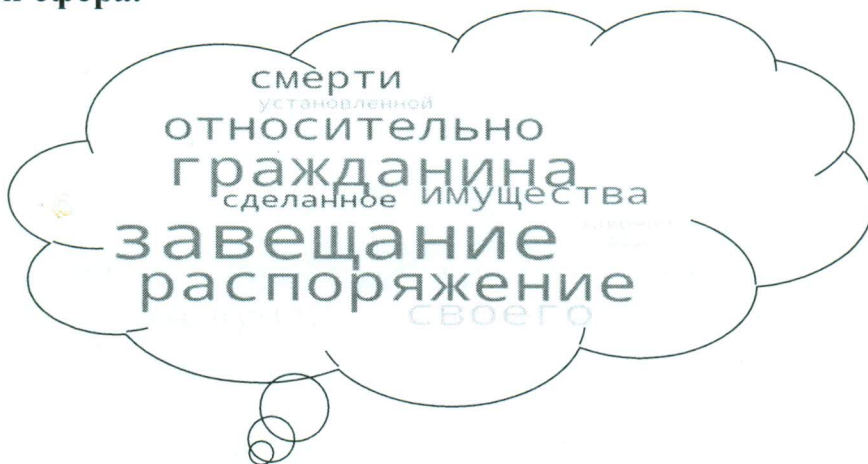
2. Духовная сфера.



Ответ: Гуманизм

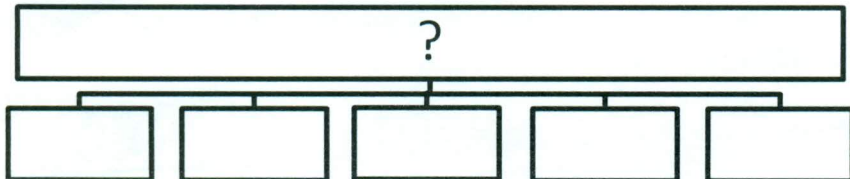


Правовая сфера.



Ответ: Завещание

Задание 9. Заполните пустые поля схемы, используя дополнительные данные из списка. Впишите в каждое поле таблицы сочетание буквы и цифры, указанные в списке. В поле со знаком «?» впишите обобщающее понятие. Максимально 14 баллов.



Список.

А) Полиция	1) Борется с терроризмом, шпионажем и другими преступлениями против государства
Б) Таможня	2) Надзирает за соблюдением законов, представляет интересы государства в судебном процессе
В) Прокуратура	3) Следит за законностью перемещений товаров через границу
Г) Суды	4) Защищает права и свободы людей, противодействует преступности, охраняет общественный порядок, обеспечивает общественную безопасность
Д) Федеральная служба безопасности (ФСБ)	5) Осуществляют правосудие и обеспечивают законность в обществе