

Задания для обучающихся.

Время выполнения - 60 мин.

Максимальный балл - 100

Код

49

Общее количество баллов

1	2	3	4	5	6	7	8	9	Всего баллов

Задание 1. Определите правильность или ошибочность суждений (да, нет).

Ответы внесите таблицу. **Максимальное количество 12 баллов.**

1. Поведение, соответствующее правилам, общество признаёт правомерным и считает нормой.
2. Адвокаты удостоверяют завещания и сделки с недвижимостью, свидетельствуют верность подписей и копий документов, выписок из них.
3. В процессе производства создаются экономические блага, необходимые для удовлетворения потребностей людей.
4. Существует рыночная экономическая система, главный принцип которой – сделка должна быть выгодна продавцу.
5. Воздействие человека на биосферу Земли не искажает свойства и природный состав планеты.
6. Смог, образующийся в воздухе крупных промышленных городов, может быть причиной ухудшения здоровья горожан.
7. В процессе деятельности люди не только удовлетворяют потребности, но и социализируются в обществе.
8. Познание самого себя предполагает исследование человеком своих способностей и возможностей, поиск того вида деятельности, который в наибольшей степени будет им соответствовать.
9. К биологическим потребностям человека учёные относят потребность в общении с другими людьми, признании человека.
10. Большинству людей, нашедших своё профессиональное призвание, удовлетворение приносит, только материальное вознаграждение.
11. Главным средством общения между людьми являются мимика и жестикауляция, которые ярко отражают эмоциональное состояние человека.
12. В процессе взаимодействия людей между собой возникают межличностные конфликты, которые всегда негативно влияют на развитие взаимоотношений между людьми.

ВСЕРОССИЙСКАЯ ОЛИМПИАДА ШКОЛЬНИКОВ 2021/22 гг.
ШКОЛЬНЫЙ ЭТАП
ОБЩЕСТВОЗНАНИЕ
8 КЛАСС

105

1	2	3	4	5	6	7	8	9	10	11	12
да	ни	да	да	да	да	да	да	нет	нет	нет	нет

Задание 2. Перед Вами ряды понятий. Выявите лишнее понятие в ряду.

Объясните свой выбор. Максимальное количество 15 баллов.

1. Производство, распределение, деньги, обмен

Лишнее понятие распределение Денег 35

Объяснение лишнее является распределение денег т.к все остальное это процесс производства, а деньги это то что ты получаешь

125

2. Рост, сила, целеустремленность, выносливость

Лишнее понятие целеустремленность Рост

Объяснение т.к все остальное связано с физическими и это не

3. Загрязнение мирового океана, браконьерство, увеличение озоновых дыр, перенаселение планеты

Лишнее понятие Браконьерство

Объяснение т.к все остальное связано с экологией и является глобальными проблемами 35

4. Кража, мелкое хулиганство, грабёж, вымогательство

Лишнее понятие мелкое хулиганство 35

Объяснение мелкое хулиганство не всегда связано с деньгами и не является серьезным преступлением, и оно за него не несет административное наказание

5. Расходы на питание, одежду, коммунальные услуги, путешествия.

Лишнее понятие путешествия 35

Объяснение т.к все расходы кроме путешествий обязательны и человек всегда может прожить без этого

Задание 3. Прочитайте текст. Заполните пропуски в тексте, выбирая из предложенного списка необходимые слова и словосочетания. Слова и словосочетания в списке даны в именительном падеже и единственном числе. Номера выбранных слов и словосочетаний запишите в таблицу. Максимальное количество 8 баллов.

ВСЕРОССИЙСКАЯ ОЛИМПИАДА ШКОЛЬНИКОВ 2021/22 гг.
ШКОЛЬНЫЙ ЭТАП
ОБЩЕСТВОЗНАНИЕ
8 КЛАСС

Главным (А) 4 политических отношений является (Б) 3. Оно существует в различных формах: правление, государственное устройство и политический (В) 7.

Другим политическим субъектом являются политические институты. Именно они определяют (Г) 6 систему общества. Сюда включаются политические организации, политические (Д) 5, общественно-политические организации и движения. Взаимодействуя между собой, политические (Е) 8 создают политические отношения, формируют политические ценности и политические нормы, а также политический процесс.



Список слов и словосочетаний. Обратите внимание, что список содержит лишние элементы.







- | | |
|----------------|-----------------|
| 1) режим | 5) партия |
| 2) институт | 6) политическая |
| 3) государство | 7) субъект |
| 4) лидер | 8) элита |

(25)

А	Б	В	Г	Д	Е
4	3	7	6	5	8

Задание 4. Вам представлены изображения, характеризующие различные сферы жизни общества. Приведите в соответствие изображений сферам жизни общества. Результаты запишите в таблицу. Максимальное количество 10 баллов.

<p>А) </p>	<p>Б) </p>
---	--

<p>В) </p>	<p>Г) </p>
<p>Д) </p>	<p>Е) </p>
<p>Ж) </p>	<p>З) </p>

Политическая сфера	Экономическая сфера	Социальная сфера	Духовная сфера
Г, Д, Ж 2	Б, А, В 1	А, Е, З 2	З, Г 1

65

Задание 5. Прочитайте притчу и ответьте на вопросы к ней.

Максимальное количество 19 баллов

Собрались у колодца три женщины. Две из них стали наперебой хвалить своих сыновей. Одна говорит, что её сын красивее всех, сильнее всех и умнее всех. Другая — про своего то же самое. А третья стоит рядом и помалкивает. Две первые её спрашивают, почему она молчит. А она говорит, что он у неё обычный, ничего особенного. Пошли женщины с тяжелыми ведрами домой. А навстречу им сыновья идут. Сын первой прыгает через голову, ходит на руках, бросает тяжелые камни. А мать радуется, смотрите, мол, какой он у меня

овкий. Сын второй стал посреди дороги и поёт, как соловей, и пляшет. А мать довольна.... А сын третьей подбежал к матери, взял ведро и понёс домой. Проходил мимо старик. Две женщины подбежали к нему и просят его рассудить, чей же сын лучше. А старик отвечает....

25

1. Как Вы думаете, что ответил старик женщинам?

Ответ сын 3 женщины.

2. Какой вид социальных норм иллюстрирует эта притча?

Ответ морально - нравственные.

3. Кто устанавливает и контролирует эти нормы? От чего зависит выполнение этих норм? Укажите не менее двух критериев.

Ответ _____

4. Какое значение в нашей жизни имеют эти нормы?

Ответ Эти нормы в нашей жизни имеют важный смысл, так они помогают нам социализироваться и хорошо себя вести в обществе.

5. Стоит ли соблюдать данные нормы?

Ответ да эти нормы даны нам как правило как нужно себя вести.

6. Смоделируйте ситуацию или приведите пример из Вашего личного социального опыта, иллюстрирующие действие санкции за нарушение данного вида социальных норм.

Пример В моей семье был случай когда в школе грубо сториел кто из них лучше и как хотели это показать в этот момент такой человек Дима доказавший семье как лучше по своим поступкам

Задание 6. Проанализируйте следующую ситуацию с точки зрения действующего законодательства. Максимально 8 баллов

Два 14-летних друга, граждане Н. и М., решили во время летних каникул заработать денег на приобретение надёжной дорогой туристической палатки. Они быстро нашли работу. Частный предприниматель, посмотрев паспорта



Гражданин Н. и М., заключил с ними трудовой договор и предоставил рабочее место в ближайшем торговом киоске, в котором продавали различные товары (продукты питания, сигареты, бытовую химию). Чтобы получать надбавки к зарплате, молодые люди согласились иногда работать в ночное время.

Прав ли работодатель, предоставивший работу гражданам Н. и М.? Какой нормативно-правовой акт регулирует данный вид отношений? Приведите не менее двух обоснований своего ответа.

В данном случае работодатель не прав так как по закону граждане в 14 лет могут работать только по 4 часа с 16 до 18 и только с 18 до 20 в выходные, праздники и покупкой алкогольной и табачной продукции также до 14 лет запрещена. Данные нарушения регулирует Трудовой кодекс в нем есть общие правила которые должны знать люди ознакомившие с этой сферой его несоблюдение ведет к штрафам.

35

Задание 7. Проанализируйте данные задачи и ответьте на вопрос.

Максимально 2 балла

Фирма «Рога и Копыта» производит два вида продукции – лассо и хомуты. Для производства и лассо, и хомутов требуется определенное количество труда, запас которого у фирмы ограничен и составляет 4000 часов в месяц. Это ограничение можно выразить в виде следующей зависимости:

$$10x + 12y = 4000,$$

где x – количество произведённых лассо, а y – количество произведённых хомутов.

05

Какое из нижеперечисленных выражений является неверным?

- 1) Если фирма хочет произвести 40 лассо, то максимальное количество хомутов при этом составит 300.
- 2) Для того чтобы произвести 12 лассо, фирма откажется от производства 10 хомутов.
- 3) На одно лассо фирма тратит 10 часов труда, а на один хомут – 12 часов труда.
- 4) Фирма не может произвести более 360 единиц продукции.

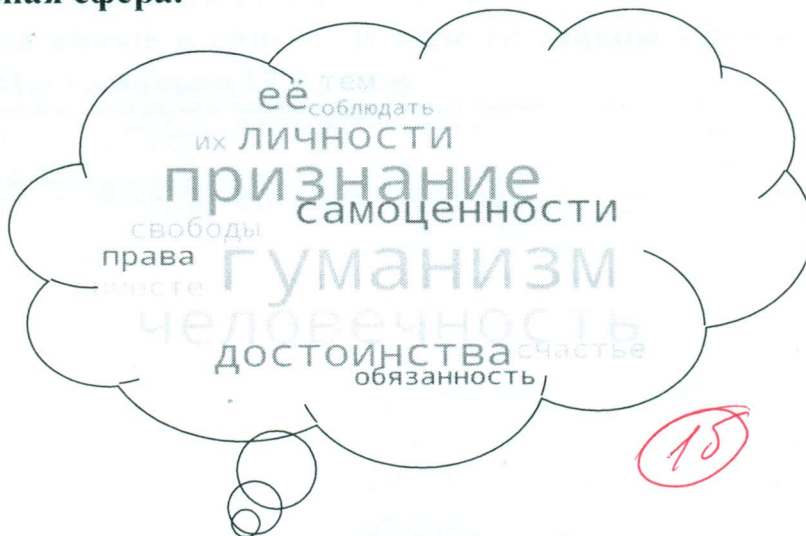
Задание 8. Перед Вами «облако слов», в котором перемешались слова понятия и его определения. Найдите понятие и составьте из этих слов его определение. Можно добавлять необходимые предлоги и соединительные союзы. Максимально 12 баллов.

1. Экономическая сфера.



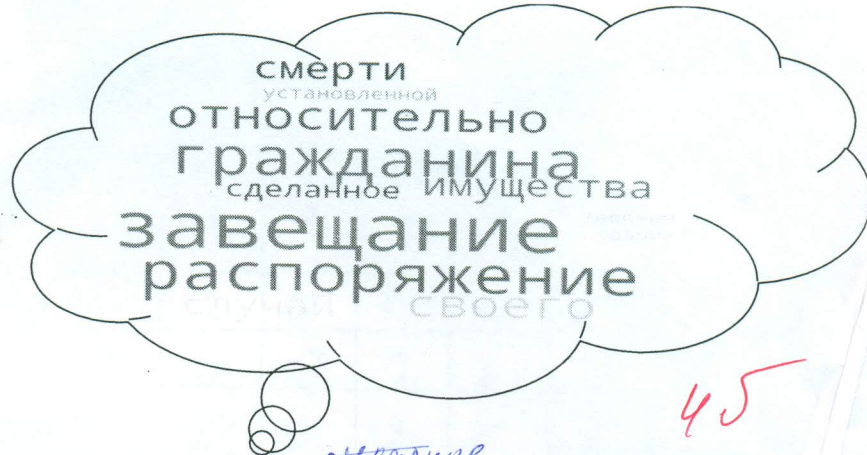
Ответ: Банковский кредит - деньги которые даются на возврат с процентами на предоставляемые товары.

2. Духовная сфера.



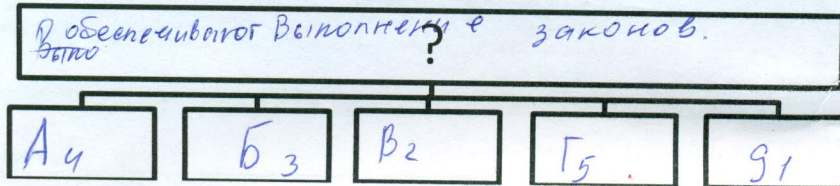
Ответ: гуманизм - это признание свободы их личностей, достоинств и обязанностей. ее нужно соблюдать. она относится ко всем людям.

3. Правовая сфера.



Ответ: завещание - это распоряжение установленное в случае смерти гражданина, в законной форме распоряжаться своим имуществом

Задание 9. Заполните пустые поля схемы, используя дополнительные данные из списка. Впишите в каждое поле таблицы сочетание буквы и цифры, указанные в списке. В поле со знаком «?» впишите обобщающее понятие. Максимально 14 баллов.



Список.

А) Полиция	1) Борется с терроризмом, шпионажем и другими преступлениями против государства
Б) Таможня	2) Надзирает за соблюдением законов, представляет интересы государства в судебном процессе
В) Прокуратура	3) Следит за законностью перемещений товаров через границу
Г) Суды	4) Защищает права и свободы людей, противодействует преступности, охраняет общественный порядок, обеспечивает общественную безопасность
Д) Федеральная служба безопасности (ФСБ)	5) Осуществляют правосудие и обеспечивают законность в обществе